

پاسخ خود را با انتخاب گزینه مناسب مشخص کنید. سپس با مقایسه پاسخ‌هایتان با پاسخ‌نامه آخر آزمون، نمره خود را محاسبه کنید.

۱- کدام واژه با بقیه واژه‌ها متناسب نیست؟

(۱) دی

(۲) تیر

(۳) اسفند

(۴) بهمن

۲- به جای علامت سؤال، چه عددی باید گذاشت؟

(۱) ۹

(۲) ۱۵

(۳) ۱۳

(۴) ۱۱

? ۷ ۱۰ ۵ ۷ ۳ ۴ ۱

۳- با جابه‌جایی کدام دسته از حروف، نام میوه‌ای به دست نمی‌آید؟

(۱) ب، ی، س

(۲) ل، و، ه

(۳) و، ل، آ

(۴) ش، م، گ

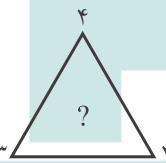
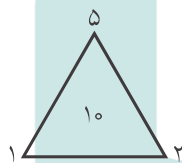
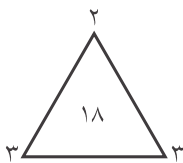
۴- به جای علامت سؤال، چه عددی باید گذاشت؟

(۱) ۲۴

(۲) ۲

(۳) ۹

(۴) ۲۰



۵- کدام اسم با بقیه متناسب نیست؟

(۱) مینا

(۲) شهلا

(۳) سینا

(۴) شیوا

۶- به جای علامت سؤال، چه عددی باید گذاشت؟

(۱) ۲

(۲) ۳

(۳) ۵

(۴) ۱۰

۲	۸
۴	۶

۱۰	۴
۴	۲

۵	۱
۴	?

۷- کدام گزینه با بقیه گزینه‌ها اختلاف دارد؟

(۱) درخت

(۲) میوه

(۳) شاخه

(۴) ریشه

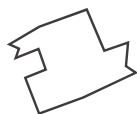
۸- کدام شکل با بقیه شکل‌ها تناسب ندارد؟

(۱)

(۲)

(۳)

(۴)



۹- به جای علامت سؤال، چه عددی باید گذاشت؟

(۱) ۶

(۲) ۹

(۳) ۱۲

(۴) ۲۴

۱۲ ۱۴ ? ۱۱ ۶ ۸ ۳ ۵

۱۰- کدام واژه، مجموعه واژه‌های زیر را تکمیل می‌کند؟

شعاع - قطر - وتر - ؟

(۱) مربع

(۲) مثلث

(۳) دایره

(۴) دوزنقه

۱۱- به جای علامت سؤال، چه عددی باید قرار داد؟

(۱) ۵

(۲) ۲۲

(۳) ۱۴

(۴) ۹

۱ ۲ ۳ ۷ ؟

۱۲- نسبت «حسد به ایمان» مثل

(۱) آب است به آتش

(۲) آتش است به درخت

(۳) کود است به خاک

(۴) خار است به گل

۱۳- به جای علامت سؤال، چه حرفی باید گذاشت؟

H (۱)

L (۲)

J (۳)

K (۴)

A C E G I ?

۱۴- کدام کلمه با بقیه اختلاف دارد؟

(۱) میخ

(۲) سیخ

(۳) پیچ

(۴) سوزن

۱۵- به جای علامت سؤال، چه عددی باید قرار داد؟

(۱) ۴

(۲) ۶

(۳) ۵

(۴) ۷

۴-۲-؟ ۵-۴-۳ ۶-۴-۲

۱۶- نسبت «جوراب به پا» مثل

(۱) کلاه است به سر

(۳) انگشتر است به انگشت

(۲) گوشواره است به گوش

(۴) دست‌کش است به دست

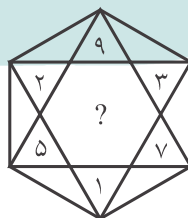
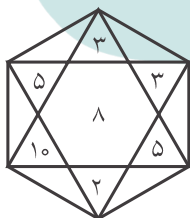
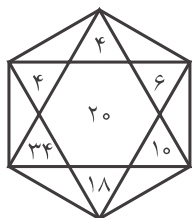
۱۷- به جای علامت سؤال، چه عددی باید قرار داد؟

(۱) ۱۵

(۲) ۱۱

(۳) ۸

(۴) ۶



۱ ۲ ۴ ۸ ۱۶ ۳۲ ؟

(۴) ۶۴

(۳) ۴۸

۱۸- به جای علامت سؤال، چه عددی باید قرار داد؟

(۱) ۶۰

(۲) ۹۶

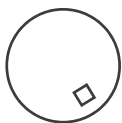
۱۹- کدام شکل با بقیه مطابقت ندارد؟

(۱)

(۲)

(۳)

(۴)



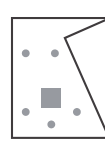

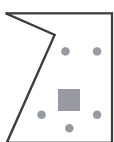
۲۰- کدام شکل با بقیه متناسب نیست؟

(۱)

(۲)

(۳)

(۴)



۲۵ ۶ ۱۹
۳۱ ? ۲۱
۸ ۲ ۶

۷۱۸ (۶۸) ۵۸۲
۴۷۴ (?) ۲۲۶


۲۱- به جای علامت سؤال، چه عددی باید قرار داد؟

- (۱) ۲
(۲) ۳
(۳) ۵
(۴) ۷

۲۲- به جای علامت سؤال، چه عددی باید قرار داد؟

- (۱) ۷۰۰
(۲) ۳۵۰
(۳) ۲۴۸
(۴) ۱۲۴

۲۳- به شکل‌های زیر توجه کنید:



حال بگویید به جای علامت سؤال، چه شکلی باید قرار داد؟



۱ ۳ ۹ ۲۷ ?

(۴) ۲۴۳

(۳) ۵۴

(۲) ۸۱

(۱) ۳۰

۲۴- عدد بعدی کدام است؟

۲۵- به جای علامت سؤال، چه عددی باید گذاشت؟

- (۱) ۱
(۲) صفر
(۳) ۱۵
(۴) ۱۶

۷۱۸ (۱۶) ۵۵۶
۴۷۴ (?) ۶۸۱

۲۶- کدام گزینه با بقیه اختلاف دارد؟

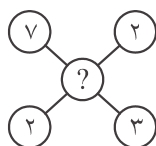
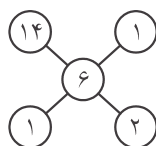
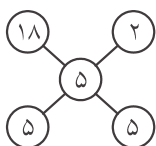
- (۱) فوتبال
(۲) بسکتبال
(۳) والیبال
(۴) هندبال

(۴) هندبال

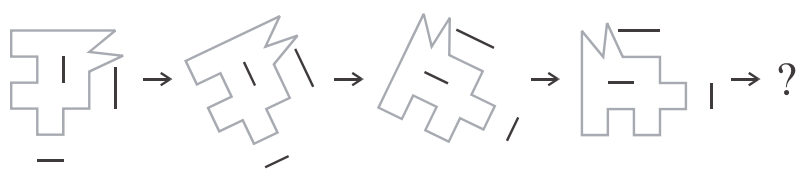
(۳) والیبال

۲۷- به جای علامت سؤال، چه عددی باید گذاشت؟

- (۱) ۲
(۲) ۳
(۳) ۴
(۴) ۵



۲۸- به شکل‌های زیر توجه کنید:



حال بگویید شکل بعدی کدام خواهد بود؟



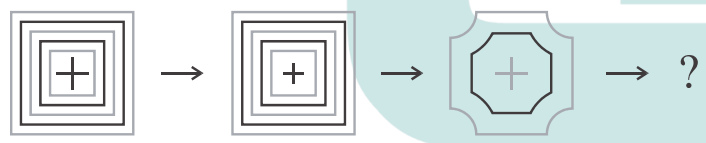
(۳, ۶) (۱۳, ?)

۲۰ (۴)

دریا (۴)

۱ ۴ ۱۰ ۲۲ ۴۶ ۹۴ ?

۱۹۰ (۴)



شکل بعدی کدام است؟



۳۹ ۴۰ ۴۲ ۴۵ ۴۹ ۵۴ ۶۰ ?

۶۱ (۴)

گاهی (۴)

C-B-B D-B-A A-E-?

D (۴)

۷ ۲۴ ۳۱ ۵۵ ۸۶ ?

۱۴۱ (۴)

۳۳- به جای علامت سؤال، چه عددی باید قرار داد؟

۶۵ (۲)

۳۴- کدام کلمه با بقیه کلمه‌ها تناسب ندارد؟

هرگز (۲)

۳۵- به جای علامت سؤال، چه حرفی باید قرار داد؟

B (۲)

۳۶- به جای علامت سؤال، چه عددی باید قرار داد؟

۹۷ (۲)

۱۹ (۱۰) ۶۴
۸۷ (۱۵) ۹۶
۴۳ (?) ۵۲

۳۷- به جای علامت سؤال، چه عددی باید قرار داد؟

۷ (۱)
۹ (۲)
۵۹ (۴)
۹۵ (۳)

۳۸- با جابه‌جا کردن حروف، در کدام حالت، نام ماهی از سال به دست می‌آید؟

(۱) ن، ی، ت، ب، س (۲) ی، ش، ر (۳) م، ا، ن، ی، ا (۴) ن، ه، م، ب

۳۹- به جای علامت سؤال، چه عددی باید قرار داد؟

۱ (۱)
۲ (۲)
۴ (۴)
۳ (۳)

۴۰- واژه مناسب برای تکمیل کردن سری زیر کدام است؟

فرستادن - آمدن - ناراحت کردن - ؟

(۱) مداد (۲) همیشه (۳) بستن (۴) پسر

۳ ۹ ۳
۲ ? ۲
۳ ۶ ۲

۲۰ ۱۸ ۱۴ ۱۱ ۱۲ ۱۶
۱۶ (۴)

۴۱- کدام عدد به مجموعه مقابل تعلق ندارد؟


(۱) ۱۱ (۲) ۱۲ (۳) ۱۴ (۴) ۱۶

$\frac{1}{100}$ $\frac{2}{4}$ $0/55$ $\frac{3}{4}$ $0/6$

۴۲- کدام عدد به مجموعه مقابل تعلق ندارد؟

(۱) $0/55$ (۲) $0/6$ (۳) $\frac{2}{4}$ (۴) $\frac{2}{4}$

۴۳- شکل کدام گزینه، با سایر گزینه‌ها متفاوت است؟



۴۴- کدام کلمه با بقیه کلمات مطابقت ندارد؟

(۱) خرامان (۲) آسمان (۳) شتابان (۴) هراسان

۵ ۷ ۶ ۸ ۷ ?
۵ (۴)

۴۵- به جای علامت سؤال، چه عددی باید گذاشت؟

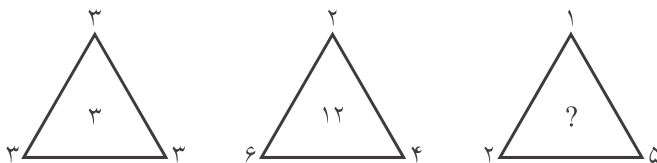
۸ (۱)
۹ (۲)
۱۰ (۳)
۱۰۰ (۴)

۴۶- سه برابر خمس ۱۰۰، کدام است؟

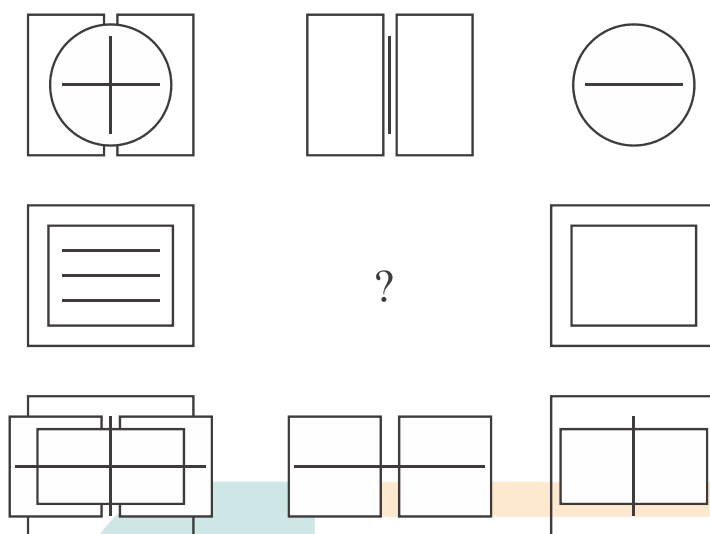
(۱) ۳۰۰ (۲) ۶۰ (۳) ۷۵ (۴) ۱۵۰

۴۷- به جای علامت سؤال، چه عددی باید قرار داد؟

۱۰ (۲)
۱۲ (۴)
۸ (۱)
۱۱ (۳)



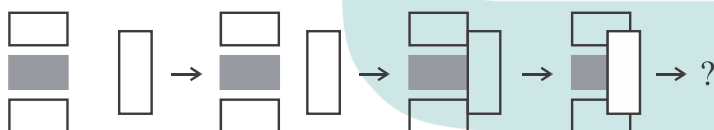
۴۸- به شکل‌های زیر توجه کنید:



به جای علامت سؤال، کدام شکل را باید قرار داد؟



۴۹- به تغییر شکل‌ها توجه کنید:



حال بگویید شکل بعدی کدام است؟



۵۰- با جابه‌جایی حروف کدام دسته از حروف زیر، نمی‌توان نام کشوری را ساخت؟

(۴) ه، ن، ر، ت، ا

(۳) ن، د، ه، ل

(۲) ا، ن، د، ک، ا، ا

(۱) ن، چ، ی

پاسخنامه کلیدی آزمون ۱

۴ ۳ ۲ ۱	۴ ۳ ۲ ۱	۴ ۳ ۲ ۱	۴ ۳ ۲ ۱	۴ ۳ ۲ ۱
<input type="checkbox"/> <input type="checkbox"/> <input type="checkbox"/> <input type="checkbox"/> .۴۱	<input type="checkbox"/> <input type="checkbox"/> <input type="checkbox"/> <input type="checkbox"/> .۳۱	<input type="checkbox"/> <input type="checkbox"/> <input type="checkbox"/> <input type="checkbox"/> .۲۱	<input type="checkbox"/> <input type="checkbox"/> <input type="checkbox"/> <input type="checkbox"/> .۱۱	<input type="checkbox"/> <input type="checkbox"/> <input type="checkbox"/> <input type="checkbox"/> .۱
<input type="checkbox"/> <input type="checkbox"/> <input type="checkbox"/> <input type="checkbox"/> .۴۲	<input type="checkbox"/> <input type="checkbox"/> <input type="checkbox"/> <input type="checkbox"/> .۳۲	<input type="checkbox"/> <input type="checkbox"/> <input type="checkbox"/> <input type="checkbox"/> .۲۲	<input type="checkbox"/> <input type="checkbox"/> <input type="checkbox"/> <input type="checkbox"/> .۱۲	<input type="checkbox"/> <input type="checkbox"/> <input type="checkbox"/> <input type="checkbox"/> .۲
<input type="checkbox"/> <input type="checkbox"/> <input type="checkbox"/> <input type="checkbox"/> .۴۳	<input type="checkbox"/> <input type="checkbox"/> <input type="checkbox"/> <input type="checkbox"/> .۳۳	<input type="checkbox"/> <input type="checkbox"/> <input type="checkbox"/> <input type="checkbox"/> .۲۳	<input type="checkbox"/> <input type="checkbox"/> <input type="checkbox"/> <input type="checkbox"/> .۱۳	<input type="checkbox"/> <input type="checkbox"/> <input type="checkbox"/> <input type="checkbox"/> .۳
<input type="checkbox"/> <input type="checkbox"/> <input type="checkbox"/> <input type="checkbox"/> .۴۴	<input type="checkbox"/> <input type="checkbox"/> <input type="checkbox"/> <input type="checkbox"/> .۳۴	<input type="checkbox"/> <input type="checkbox"/> <input type="checkbox"/> <input type="checkbox"/> .۲۴	<input type="checkbox"/> <input type="checkbox"/> <input type="checkbox"/> <input type="checkbox"/> .۱۴	<input type="checkbox"/> <input type="checkbox"/> <input type="checkbox"/> <input type="checkbox"/> .۴
<input type="checkbox"/> <input type="checkbox"/> <input type="checkbox"/> <input type="checkbox"/> .۴۵	<input type="checkbox"/> <input type="checkbox"/> <input type="checkbox"/> <input type="checkbox"/> .۳۵	<input type="checkbox"/> <input type="checkbox"/> <input type="checkbox"/> <input type="checkbox"/> .۲۵	<input type="checkbox"/> <input type="checkbox"/> <input type="checkbox"/> <input type="checkbox"/> .۱۵	<input type="checkbox"/> <input type="checkbox"/> <input type="checkbox"/> <input type="checkbox"/> .۵
<input type="checkbox"/> <input type="checkbox"/> <input type="checkbox"/> <input type="checkbox"/> .۴۶	<input type="checkbox"/> <input type="checkbox"/> <input type="checkbox"/> <input type="checkbox"/> .۳۶	<input type="checkbox"/> <input type="checkbox"/> <input type="checkbox"/> <input type="checkbox"/> .۲۶	<input type="checkbox"/> <input type="checkbox"/> <input type="checkbox"/> <input type="checkbox"/> .۱۶	<input type="checkbox"/> <input type="checkbox"/> <input type="checkbox"/> <input type="checkbox"/> .۶
<input type="checkbox"/> <input type="checkbox"/> <input type="checkbox"/> <input type="checkbox"/> .۴۷	<input type="checkbox"/> <input type="checkbox"/> <input type="checkbox"/> <input type="checkbox"/> .۳۷	<input type="checkbox"/> <input type="checkbox"/> <input type="checkbox"/> <input type="checkbox"/> .۲۷	<input type="checkbox"/> <input type="checkbox"/> <input type="checkbox"/> <input type="checkbox"/> .۱۷	<input type="checkbox"/> <input type="checkbox"/> <input type="checkbox"/> <input type="checkbox"/> .۷
<input type="checkbox"/> <input type="checkbox"/> <input type="checkbox"/> <input type="checkbox"/> .۴۸	<input type="checkbox"/> <input type="checkbox"/> <input type="checkbox"/> <input type="checkbox"/> .۳۸	<input type="checkbox"/> <input type="checkbox"/> <input type="checkbox"/> <input type="checkbox"/> .۲۸	<input type="checkbox"/> <input type="checkbox"/> <input type="checkbox"/> <input type="checkbox"/> .۱۸	<input type="checkbox"/> <input type="checkbox"/> <input type="checkbox"/> <input type="checkbox"/> .۸
<input type="checkbox"/> <input type="checkbox"/> <input type="checkbox"/> <input type="checkbox"/> .۴۹	<input type="checkbox"/> <input type="checkbox"/> <input type="checkbox"/> <input type="checkbox"/> .۳۹	<input type="checkbox"/> <input type="checkbox"/> <input type="checkbox"/> <input type="checkbox"/> .۲۹	<input type="checkbox"/> <input type="checkbox"/> <input type="checkbox"/> <input type="checkbox"/> .۱۹	<input type="checkbox"/> <input type="checkbox"/> <input type="checkbox"/> <input type="checkbox"/> .۹
<input type="checkbox"/> <input type="checkbox"/> <input type="checkbox"/> <input type="checkbox"/> .۵۰	<input type="checkbox"/> <input type="checkbox"/> <input type="checkbox"/> <input type="checkbox"/> .۴۰	<input type="checkbox"/> <input type="checkbox"/> <input type="checkbox"/> <input type="checkbox"/> .۳۰	<input type="checkbox"/> <input type="checkbox"/> <input type="checkbox"/> <input type="checkbox"/> .۲۰	<input type="checkbox"/> <input type="checkbox"/> <input type="checkbox"/> <input type="checkbox"/> .۱۰

تعداد پاسخ درست = تعداد پاسخ نادرست = نمره نهایی =

$$\text{تعداد پاسخ نادرست} - \frac{\text{تعداد پاسخ درست} = \text{نمره نهایی}}{۳}$$

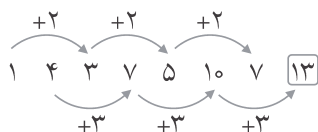
پاسخ نامه تشریحی

آزمون ۱

۱- گزینه (۲)

تیر از ماه‌های تابستان است ولی سه گزینه دیگر ماه‌های زمستان هستند.

۲- گزینه (۳)



۳- گزینه (۴)

با جابه‌جایی حروف سه گزینه دیگر، نام میوه به دست می‌آید (سیب، هلو و آلو).

۴- گزینه (۱)

حاصل ضرب سه عدد موجود در رأس‌های مثلث‌ها، همواره با عدد داخل مثلث برابر است.

۵- گزینه (۳)

«سینا» اسم پسر است ولی بقیه برای نام‌گذاری دختر به کار می‌روند.

۶- گزینه (۴)

مجموع چهار عدد داخل هر مربع بزرگ همواره ۲۰ می‌باشد.

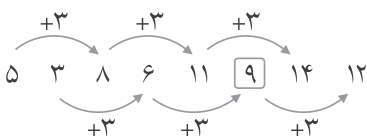
۷- گزینه (۱)

بقیه گزینه‌ها عضوی از درخت هستند.

۸- گزینه (۲)

گزینه‌های ۳ و ۴ از دوران گزینه ۱ به دست آمده است ولی گزینه ۲ چنین نیست و نسبت به گزینه ۱ پشت و رو شده است.

۹- گزینه (۲)



۱۰- گزینه (۳)

شعاع، قطر و وتر در مورد دایره به کار می‌روند.

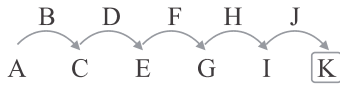
۱۱- گزینه (۲)



هر عدد، از حاصل ضرب دو عدد قبلی در هم به علاوه ۱ به دست می‌آید.

۱۲- گزینه (۲)

حسد ایمان را می‌سوزاند همان‌طور که آتش درخت را می‌سوزاند.



۱۳- گزینه (۴)

۱۴- گزینه (۲)

بقیه گزینه‌ها سوراخ ایجاد می‌کنند.

۱۵- گزینه (۲)

مجموع سه عدد همواره ۱۲ می‌باشد.

۱۶- گزینه (۴)

۱۷- گزینه (۱)

در هر گزینه، اگر مجموع اعداد داخل رئوس دو مثلث را به دست آورده و از هم کم کنیم، عدد داخل شش ضلعی حاصل می‌شود.

۱۸- گزینه (۴)



۱۹- گزینه (۴)

در سایر گزینه‌ها داخل هر شکل، شکل کوچک‌تر همان گزینه مشاهده می‌شود.

۲۰- گزینه (۱)

شکل‌های سایر گزینه‌ها را می‌توان با دوران دادن بر هم منطبق کرد ولی شکل ۱ بدون پشت و رو کردن قابل انطباق نیست.

۲۱- گزینه (۱)

عدد وسطی هر سطر، میانگین دو عدد دیگر همان سطر است.

۲۲- گزینه (۴)

عدد وسطی هر سطر، نصف تفاضل دو عدد کناری می‌باشد.

۲۳- گزینه (۲)

در هر سطری، یک شکل سفید، یک شکل سیاه و یک شکل خاکستری وجود دارد و شکل‌های هر رنگ هم با زاویه‌های یکسان مشاهده می‌شوند.

۲۴- گزینه (۲)



۲۵- گزینه (۳)

عدد وسطی هر سطر، مجموع ارقام هر یک از دو عدد کناری آن می‌باشد.

$$7 + 1 + 8 = 5 + 5 + 6 = 16$$

$$4 + 7 + 4 = 6 + 8 + 1 = 15$$

۲۶- گزینه (۱)

در فوتبال با پا توپ‌بازی می‌شود و در سایر گزینه‌ها با دست.

۲۷- گزینه (۱)

در هر گزینه، اگر مجموع اعداد دو دایره پایینی را از مجموع اعداد دو دایره بالایی کم کرده و آن را نصف کنیم، عدد موجود در داخل دایره وسطی به دست می آید. برای نمونه:

$$(18 + 2) - (5 + 5) = 10 \rightarrow 10 \div 2 = 5$$

۲۸- گزینه (۳)

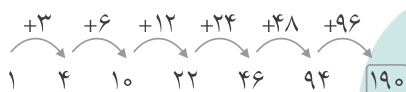
در هر بار شکل ۳۰ درجه در جهت عکس عقربه‌های ساعت می چرخد.

۲۹- گزینه (۲)

عدد دوم در داخل پرانتز، دو برابر عدد قبلی می باشد.

۳۰- گزینه (۳)

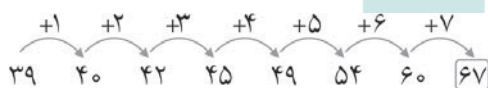
۳۱- گزینه (۴)



۳۲- گزینه (۱)

تنها علامت به علاوه داخل شکل کوچک می شود.

۳۳- گزینه (۱)



۳۴- گزینه (۳)

سه گزینه دیگر به «زمان» مربوط می شوند.

۳۵- گزینه (۱)

اگر به جای حروف، اعداد مرتبط با آنها را قرار دهیم، مجموع سه عدد همواره ۷ خواهد بود. برای نمونه:

$$C + B + B = 3 + 2 + 2 = 7$$

۳۶- گزینه (۴)

مجموع دو عدد، همواره عدد بعدی خواهد بود.

$$7 + 24 = 31$$

$$24 + 31 = 55$$

⋮

$$55 + 86 = 141$$

۳۷- گزینه (۱)

در هر سطر، مجموع ارقام هر یک از اعداد، عدد وسطی خواهد بود:

$$1 + 9 = 6 + 4 = 10$$

$$8 + 7 = 9 + 6 = 15$$

۳۸- گزینه (۴)

گزینه ۴، «بهمن» می باشد که نام یکی از ماه های سال است.

۳۹- گزینه (۴)

در هر سطر، عدد وسطی از حاصل ضرب دو عدد کناری به دست می‌آید.

۴۰- گزینه (۳)

گزینه ۳، «بستن» مانند سه کلمه داده شده «مصدر» است ولی بقیه مصدر نیستند.

۴۱- گزینه (۱)

بین اعداد داده شده، فقط ۱۱ عدد اول است.

۴۲- گزینه (۲)

اگر $\frac{۰}{۶}$ نادیده گرفته شود، بقیه اعداد از کوچک به بزرگ مرتب می‌شوند.

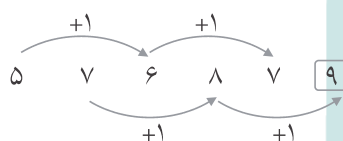
۴۳- گزینه (۱)

شکل گزینه ۱ با بقیه متفاوت است.

۴۴- گزینه (۲)

«آسمان» اسم است ولی بقیه قید می‌باشند.

۴۵- گزینه (۲)



$$3 \times \frac{1}{5} \times 100 = 60$$

۴۶- گزینه (۲)

منظور از خمس، همان $\frac{1}{5}$ است. پس:

۴۷- گزینه (۲)

در هر مثلث، عدد داخل مثلث از حاصل ضرب دو عدد رئوس پایینی مثلث، تقسیم بر عدد بالایی مثلث به دست می‌آید. یعنی:

$$3 \times 3 \div 3 = 3$$

$$6 \times 4 \div 2 = 12$$

$$2 \times 5 \div 1 = 10$$

پس:

۴۸- گزینه (۲)

در هر سطر، شکل سوم را از اولی کم کنید، شکل وسطی به دست می‌آید.

۴۹- گزینه (۱)

مستطیل سمت راست شکل به تدریج به شکل نزدیک می‌شود.

۵۰- گزینه (۴)

با سه گزینه نخست کلمات «چین، کانادا و هلند» ساخته می‌شود.

پاسخنامه کلیدی آزمون ۱

۴ ۳ ۲ ۱	۴ ۳ ۲ ۱	۴ ۳ ۲ ۱	۴ ۳ ۲ ۱	۴ ۳ ۲ ۱
<input type="checkbox"/> <input type="checkbox"/> <input type="checkbox"/> <input checked="" type="checkbox"/> .۴۱	<input checked="" type="checkbox"/> <input type="checkbox"/> <input type="checkbox"/> <input type="checkbox"/> .۳۱	<input type="checkbox"/> <input type="checkbox"/> <input type="checkbox"/> <input checked="" type="checkbox"/> .۲۱	<input type="checkbox"/> <input type="checkbox"/> <input checked="" type="checkbox"/> <input type="checkbox"/> .۱۱	<input type="checkbox"/> <input type="checkbox"/> <input checked="" type="checkbox"/> <input type="checkbox"/> .۱
<input type="checkbox"/> <input type="checkbox"/> <input checked="" type="checkbox"/> <input type="checkbox"/> .۴۲	<input type="checkbox"/> <input type="checkbox"/> <input type="checkbox"/> <input checked="" type="checkbox"/> .۳۲	<input checked="" type="checkbox"/> <input type="checkbox"/> <input type="checkbox"/> <input type="checkbox"/> .۲۲	<input type="checkbox"/> <input type="checkbox"/> <input type="checkbox"/> <input checked="" type="checkbox"/> .۱۲	<input type="checkbox"/> <input checked="" type="checkbox"/> <input type="checkbox"/> <input type="checkbox"/> .۲
<input type="checkbox"/> <input type="checkbox"/> <input type="checkbox"/> <input checked="" type="checkbox"/> .۴۳	<input type="checkbox"/> <input type="checkbox"/> <input type="checkbox"/> <input checked="" type="checkbox"/> .۳۳	<input type="checkbox"/> <input type="checkbox"/> <input checked="" type="checkbox"/> <input type="checkbox"/> .۲۳	<input checked="" type="checkbox"/> <input type="checkbox"/> <input type="checkbox"/> <input type="checkbox"/> .۱۳	<input checked="" type="checkbox"/> <input type="checkbox"/> <input type="checkbox"/> <input type="checkbox"/> .۳
<input type="checkbox"/> <input type="checkbox"/> <input checked="" type="checkbox"/> <input type="checkbox"/> .۴۴	<input type="checkbox"/> <input checked="" type="checkbox"/> <input type="checkbox"/> <input type="checkbox"/> .۳۴	<input type="checkbox"/> <input type="checkbox"/> <input type="checkbox"/> <input checked="" type="checkbox"/> .۲۴	<input type="checkbox"/> <input type="checkbox"/> <input type="checkbox"/> <input checked="" type="checkbox"/> .۱۴	<input type="checkbox"/> <input type="checkbox"/> <input type="checkbox"/> <input checked="" type="checkbox"/> .۴
<input type="checkbox"/> <input type="checkbox"/> <input checked="" type="checkbox"/> <input type="checkbox"/> .۴۵	<input type="checkbox"/> <input type="checkbox"/> <input type="checkbox"/> <input checked="" type="checkbox"/> .۳۵	<input type="checkbox"/> <input checked="" type="checkbox"/> <input type="checkbox"/> <input type="checkbox"/> .۲۵	<input type="checkbox"/> <input type="checkbox"/> <input type="checkbox"/> <input checked="" type="checkbox"/> .۱۵	<input type="checkbox"/> <input checked="" type="checkbox"/> <input type="checkbox"/> <input type="checkbox"/> .۵
<input type="checkbox"/> <input type="checkbox"/> <input checked="" type="checkbox"/> <input type="checkbox"/> .۴۶	<input checked="" type="checkbox"/> <input type="checkbox"/> <input type="checkbox"/> <input type="checkbox"/> .۳۶	<input type="checkbox"/> <input type="checkbox"/> <input type="checkbox"/> <input checked="" type="checkbox"/> .۲۶	<input checked="" type="checkbox"/> <input type="checkbox"/> <input type="checkbox"/> <input type="checkbox"/> .۱۶	<input checked="" type="checkbox"/> <input type="checkbox"/> <input type="checkbox"/> <input type="checkbox"/> .۶
<input type="checkbox"/> <input type="checkbox"/> <input checked="" type="checkbox"/> <input type="checkbox"/> .۴۷	<input type="checkbox"/> <input type="checkbox"/> <input type="checkbox"/> <input checked="" type="checkbox"/> .۳۷	<input type="checkbox"/> <input type="checkbox"/> <input type="checkbox"/> <input checked="" type="checkbox"/> .۲۷	<input type="checkbox"/> <input type="checkbox"/> <input type="checkbox"/> <input checked="" type="checkbox"/> .۱۷	<input type="checkbox"/> <input type="checkbox"/> <input type="checkbox"/> <input checked="" type="checkbox"/> .۷
<input type="checkbox"/> <input type="checkbox"/> <input checked="" type="checkbox"/> <input type="checkbox"/> .۴۸	<input checked="" type="checkbox"/> <input type="checkbox"/> <input type="checkbox"/> <input type="checkbox"/> .۳۸	<input type="checkbox"/> <input checked="" type="checkbox"/> <input type="checkbox"/> <input type="checkbox"/> .۲۸	<input checked="" type="checkbox"/> <input type="checkbox"/> <input type="checkbox"/> <input type="checkbox"/> .۱۸	<input type="checkbox"/> <input type="checkbox"/> <input type="checkbox"/> <input checked="" type="checkbox"/> .۸
<input type="checkbox"/> <input type="checkbox"/> <input type="checkbox"/> <input checked="" type="checkbox"/> .۴۹	<input checked="" type="checkbox"/> <input type="checkbox"/> <input type="checkbox"/> <input type="checkbox"/> .۳۹	<input type="checkbox"/> <input type="checkbox"/> <input checked="" type="checkbox"/> <input type="checkbox"/> .۲۹	<input checked="" type="checkbox"/> <input type="checkbox"/> <input type="checkbox"/> <input type="checkbox"/> .۱۹	<input type="checkbox"/> <input type="checkbox"/> <input type="checkbox"/> <input checked="" type="checkbox"/> .۹
<input checked="" type="checkbox"/> <input type="checkbox"/> <input type="checkbox"/> <input type="checkbox"/> .۵۰	<input type="checkbox"/> <input checked="" type="checkbox"/> <input type="checkbox"/> <input type="checkbox"/> .۴۰	<input type="checkbox"/> <input checked="" type="checkbox"/> <input type="checkbox"/> <input type="checkbox"/> .۳۰	<input type="checkbox"/> <input type="checkbox"/> <input type="checkbox"/> <input checked="" type="checkbox"/> .۲۰	<input type="checkbox"/> <input checked="" type="checkbox"/> <input type="checkbox"/> <input type="checkbox"/> .۱۰

استعداد تحلیلی

تعداد پرسش: ۵۰
زمان پاسخ‌گویی: ۵۰ دقیقه

پاسخ خود را با انتخاب گزینه مناسب مشخص کنید. سپس با مقایسه پاسخ‌هایتان با پاسخ‌نامه آخر آزمون، نمره خود را محاسبه کنید.

۱- به جای علامت سؤال، چه کلمه‌ای باید قرار داد؟

ایران ← ایرانی تهران ← تهرانی فرانسه ← ؟

(۱) فرانس

(۲) فرانسه‌ای

(۳) فرانسوی

(۴) فرانسه

۲- به جای علامت سؤال، چه عددی باید گذاشت؟

? ۴۳ ۳۷ ۳۱ ۲۵ ۱۹ ۱۳

(۱) ۴۳

(۲) ۴۵

(۳) ۴۷

(۴) ۴۹

۳- با جابه‌جا کردن کدام دسته از حروف زیر، نام یک ورزش به دست نمی‌آید؟

(۱) ن، ا، ش (۲) ش، ی، ت، ک (۳) و، ج، و، د (۴) ن، ر، ی، پ

۴- به جای علامت سؤال، چه عددی باید قرار داد؟



(۲) ۲۹

(۱) ۱۲

(۴) ۳۱

(۳) ۳۰

۵- به جای علامت سؤال، چه عددی باید قرار داد؟

? ۸ ۹ ۷ ۸ ۶ ۷ ۵

(۱) ۱۰

(۲) ۹

(۳) ۱۱

(۴) ۷

۶- کدام کلمه با بقیه تناسب ندارد؟

(۱) آر (۲) هکتار (۳) دسی‌متر مربع (۴) سی‌سی

۷- به جای علامت‌های سؤال چه اعدادی باید گذاشت؟

۱۶ ۱۷ ? ? ۶ ۹ ۱ ۵

(۱) ۱۱ و ۹

(۲) ۱۱ و ۱۷

(۳) ۱۳ و ۱۱

(۴) ۱۳ و ۱۷

۸- به جای علامت سؤال، چه عددی باید قرار داد؟

۱	۸	۷	۵۶	۵	۴۰
۲	۴	۱۴	۲۸	۱۰	?

(۲) ۲۰

(۱) ۱۰

(۴) ۴۰

(۳) ۳۰

۹- کدام گزینه، کلمات زیر را تکمیل می‌کند؟

یال - وجه - رأس - ؟

(۱) مثلث

(۲) مربع

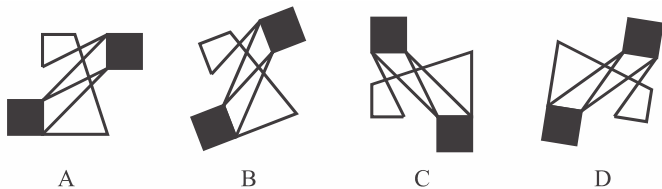
(۳) مکعب

(۴) دایره

۱۰- اگر نسبت کره به مثلث مثل ۳ به ۲ و نسبت مربع به مکعب مثلث ۲ به ۳ باشد، نسبت «استوانه به دایره» مثل

- (۱) است به ۲ (۲) است به ۳ (۳) است به ۱ (۴) است به ۳

۱۱- کدام شکل با بقیه مطابقت ندارد؟



- (۱) A (۲) B (۳) C (۴) D

۱۲- کدام شکل با بقیه اختلاف دارد؟



۶ ۹ ۹ ۱۵ ۱۲ ۲۱ ۱۵ ?

(۴) ۲۷

۱۳- به جای علامت سؤال، چه عددی باید گذاشت؟

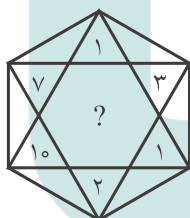
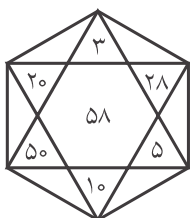
- (۱) ۱۲ (۲) ۹ (۳) ۱۸ (۴) ۲۷

L-E-C H-A-K O-B-?

(۴) L

۱۴- به جای علامت سؤال، چه حرفی باید گذاشت؟

- (۱) C (۲) E (۳) G (۴) H



۱۵- به جای علامت سؤال، چه عددی باید قرار داد؟

- (۱) ۸ (۲) ۱۰ (۳) ۱۲ (۴) ۴۲

۱ ۲ ۳ ۵ ۸ ?

(۴) ۱۵

۱۶- عدد بعدی کدام است؟

- (۱) ۹ (۲) ۱۱ (۳) ۱۳ (۴) ۱۵

۱۰-۱۳-۳ ۱۶-?-۱ ۲۰-۲۵-۵

(۴) ۲۵

۱۷- به جای علامت سؤال، چه عددی باید قرار داد؟

- (۱) ۱۳ (۲) ۱۷ (۳) ۲۰ (۴) ۲۵

۱۸- کدام شکل با بقیه مطابقت ندارد؟



۱۹- با جابه‌جا کردن کدام دسته از حروف زیر، کلمه با معنی به دست نمی‌آید؟

- (۱) س، د، ر (۲) ک، ش، ا (۳) و، ن، خ (۴) چ، پ، ت

۲۰- به جای علامت سؤال، چه عددی باید قرار داد؟

- (۱) ۲۲ (۲) ۳۲ (۳) ۲ (۴) ۱۵

۲ ۱۵ ۱۷

۱۰ ۱۲ ?

۸ ۷ ۱۵